

This booklet contains 28+4 printed pages.

આ પુસ્તિકામાં 28+4 મુદ્રિત પાના છે.

OPQ

No. :

Test Booklet Code

પરીક્ષા પુસ્તિકા કોડ

PAPER - 2 : APTITUDE TEST & MATHEMATICS

પરીક્ષા પુસ્તિકા - 2 : અભિરૂચિ પરીક્ષા તથા ગણિત

Do not open this Test Booklet until you are asked to do so.

આ પરીક્ષા પુસ્તિકાને ખોલવા બાબત સૂચના મળ્યા સુધી ન ખોલવી.

Read carefully the Instructions on the Back Cover of this Test Booklet.

આ પરીક્ષા પુસ્તિકાના પાછલા આવરણ પર દીધેલા નિર્દેશોને ધ્યાનથી વાંચો.

Important Instructions :

મહત્વપૂર્ણ નિર્દેશો :

N

1. Immediately fill in the particulars on this page of the Test Booklet with Blue/Black Ball Point Pen.
2. This Test Booklet consists of three parts - Part I, Part II and Part III. Part I Aptitude Test has 50 objective type questions consisting of FOUR (4) marks for each correct response. Part II has 30 objective type questions of Mathematics consisting of FOUR (4) marks for each correct response. Mark your answers for these questions in the appropriate space against the number corresponding to the question in the Answer Sheet placed inside this Test Booklet. Use Blue/Black Ball Point Pen only for writing particulars/markings responses on Side-1 and Side-2 of the Answer Sheet. Part III consists of 2 questions carrying 70 marks which are to be attempted on a separate Drawing Sheet which is also placed inside the Test Booklet. Marks allotted to each question are written against each question. Use colour pencils or crayons only on the Drawing Sheet. Do not use water colours. For each incorrect response in Part I and Part II, one-fourth (1/4) of the total marks allotted to the question would be deducted from the total score. No deduction from the total score, however, will be made if no response is indicated for an item in the Answer Sheet.
3. There is only one correct response for each question in Part I and Part II. Filling up more than one response in each question will be treated as wrong response and marks for wrong response will be deducted accordingly as per instruction 2 above.
4. The test is of 3 hours duration. The maximum marks are 390.
5. On completion of the test, the candidates must hand over the Answer Sheet of Aptitude Test and Mathematics-Part I & II and the Drawing Sheet of Aptitude Test-Part III alongwith Test Booklet for Part III to the Invigilator in the Room/Hall. Candidates are allowed to take away with them the Test Booklet of Aptitude Test-Part I & II.
6. The CODE for this Booklet is **N**. Make sure that the CODE printed on Side-2 of the Answer Sheet and on the Drawing Sheet (Part III) is the same as that on this booklet. Also tally the Serial Number of the Test Booklet, Answer Sheet and Drawing Sheet and ensure that they are same. In case of discrepancy in Code or Serial Number, the candidate should immediately report the matter to the Invigilator for replacement of the Test Booklet, Answer Sheet and the Drawing Sheet.

1. પરીક્ષા પુસ્તિકાના આ પાના પર આવશ્યક વિવરણ ભૂરી/કાળી બોલપેન થી તુરંત ભરવું. પેન્સિલનો ઉપયોગ સર્વથા નિષિદ્ધ છે.
2. આ પરીક્ષા પુસ્તિકામાં ત્રણ ભાગ છે - ભાગ I, ભાગ II અને ભાગ III. ભાગ I માં અભિરૂચિ પરીક્ષામાં 50 વિકલ્પલક્ષી પ્રશ્નો છે જેમાં દરેક સાચા ઉત્તરને ચાર (4) અંક છે. ભાગ II નાં ગણિતનાં 30 વિકલ્પલક્ષી પ્રશ્નો છે જેમાં દરેક સાચા જવાબના ચાર (4) અંક છે. આ પ્રશ્નોનાં ઉત્તર આ પરીક્ષા પુસ્તિકામાં રાખેલાં ઉત્તર પત્રમાં તે સવાલનાં ક્રમ સંખ્યા પ્રમાણે યોગ્ય વર્તુળને ઘટ્ટ કરી પૂર્ણ કરવો. ઉત્તર પત્રની બાજુ-1 અને બાજુ-2 પર આવશ્યક વિવરણ લખવા/જવાબ અંકિત કરવા માટે ભૂરી/કાળી બોલ પોઇન્ટ પેનનો જ ઉપયોગ કરવો. પરીક્ષા પુસ્તિકાના ભાગ-III માં 2 પ્રશ્નો છે જેના 70 અંક નિર્ધારિત કરવામાં આવ્યા છે. આ પ્રશ્નો કરવા માટે અતિરિક્ત ડ્રાઇંગ શીટ આપવામાં આવી છે જે આ પુસ્તિકામાં છે. દરેક પ્રશ્ન સામે તેના નિર્ધારિત અંક આપવામાં આવ્યા છે. ડ્રાઇંગ શીટ પર ફક્ત રંગીન પેન્સિલ અથવા કેયોનનો જ ઉપયોગ થશે. જળ-રંગોનો ઉપયોગ ન કરવો. ભાગ-I અને ભાગ-II માં દરેક ખોટાં જવાબ માટે તે સવાલના નિર્ધારિત અંકમાંથી એક-ચોથાઈ(1/4) અંકનેકુલ અંકોમાંથી કાપવામાં આવશે. જો કોઈ પ્રશ્નનો જવાબ ઉત્તર પત્રમાં ન આપ્યો હોય તો કુલ અંકોમાંથી કંઈપણ કાપવામાં નહીં આવે.
3. ભાગ-I અને ભાગ-II માં દરેક સવાલ માટે એક જ સાચો જવાબ છે. એક થી વધારે જવાબ આપવાની સ્થિતિમાં તેને ખોટો જવાબ માનવામાં આવશે અને ઉપરોક્ત નિર્દેશ 2 અનુસાર અંકો કાપવામાં આવશે.
4. પરીક્ષાનો સમય 3 કલાકનો છે. અધિકતમ અંક 390 છે.
5. પરીક્ષા પૂર્ણ થયા પછી, પરીક્ષાર્થીએ અભિરૂચિ પરીક્ષા અને ગણિત ભાગ-I અને II ના ઉત્તર પત્ર, અને અભિરૂચિ પરીક્ષા ભાગ-III ની ડ્રાઇંગ શીટ, ભાગ-III ની પરીક્ષા પુસ્તિકા સહિત કક્ષ/હોલ નિરીક્ષકને સોંપવી. પરીક્ષાર્થી અભિરૂચિ પરીક્ષા ભાગ-I અને ભાગ II ની પ્રશ્ન પુસ્તિકા પોતાની સાથે લઈ જઈ શકે છે.
6. આ પુસ્તિકાનો કોડ **N** છે. તે સુનિશ્ચિત કરી લેવું કે આ પુસ્તિકાનો કોડ, જવાબ પત્રની બાજુ-2 અને ડ્રાઇંગ શીટ (ભાગ III) પર મુદ્રિત કોડ થી સમાન છે. તે પણ સુનિશ્ચિત કરી લેવું કે પરીક્ષા પુસ્તિકા, જવાબ પત્ર અને ડ્રાઇંગ શીટ પર મુદ્રિત સંખ્યા સમાન છે. જો કોડ અથવા ક્રમ સંખ્યા ભિન્ન હોય તો પરીક્ષાર્થીએ નિરીક્ષકને આ ત્રુટિની જાણ કરી બીજી પરીક્ષા પુસ્તિકા, જવાબ પત્ર અને ડ્રાઇંગ શીટ મેળવી લેવી.

Name of the Candidate (in Capitals) : _____

પરીક્ષાર્થીનું નામ (મોટા અક્ષરોમાં) :

Roll Number : in figures

અનુક્રમાંક

: અંકોમાં

--	--	--	--	--	--	--	--	--	--

: in words

: શબ્દોમાં

Examination Centre Number :

પરીક્ષા કેન્દ્ર સંખ્યા :

--	--	--	--	--	--	--	--

Centre of Examination (in Capitals) : _____

પરીક્ષા કેન્દ્ર (મોટા અક્ષરોમાં) :

Candidate's Signature : _____

પરીક્ષાર્થીની સહી :

Invigilator's Signature (1) : _____

નિરીક્ષકની સહી (1) :

Invigilator's Signature (2) : _____

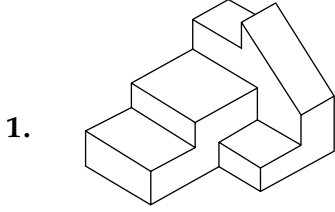
નિરીક્ષકની સહી (2) :

Part I / ભાગ I
Aptitude Test / અભિરૂચિ પરીક્ષા

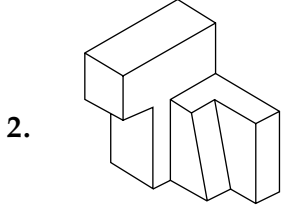
Directions : (For Q. 1 to 6). Find out the total number of surfaces of the object, given below in the problem figure.

સૂચના : (પ્ર. 1 થી 6 માટે). નીચે આપેલ પ્રશ્ન આકૃતિ દ્વારા દર્શાવેલ વસ્તુની સપાટીઓની કુલ સંખ્યા શોધો.

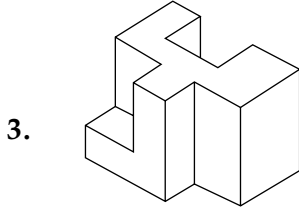
Problem Figure / પ્રશ્ન આકૃતિ



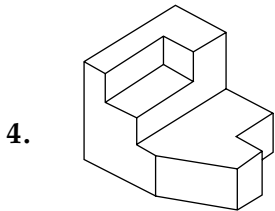
- (1) 14 (2) 13 (3) 15 (4) 16



- (1) 11 (2) 10 (3) 13 (4) 12

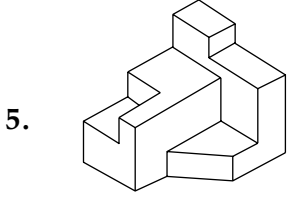


- (1) 13 (2) 14 (3) 15 (4) 12



- (1) 14 (2) 15 (3) 11 (4) 12

Problem Figure / પ્રશ્ન આકૃતિ

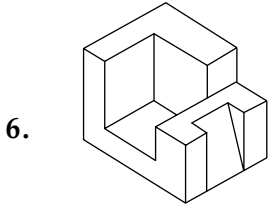


(1) 17

(2) 16

(3) 14

(4) 15



(1) 14

(2) 13

(3) 15

(4) 16

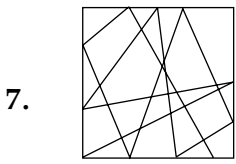
Directions : (For Q. 7 and 8).

One of the following answer figures is hidden in the problem figure, in the same size and direction. Select, which one is correct ?

સૂચના : (પ્ર. 7 અને 8 માટે). નીચે આપેલ જવાબ આકૃતિઓમાંની એક આકૃતિ માપ અને દિશામાં સમાન રૂપે પ્રશ્ન આકૃતિમાં છૂપાયેલ છે. સાચી હોય તેને પસંદ કરો.

Problem Figure / પ્રશ્ન આકૃતિ

Answer Figures / ઉત્તર આકૃતિઓ

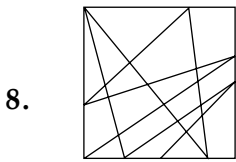


(1)

(2)

(3)

(4)



(1)

(2)

(3)

(4)

Directions : (For Q. 9 and 10).

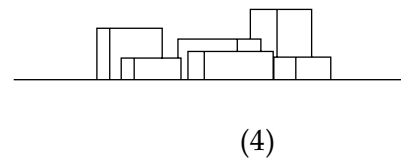
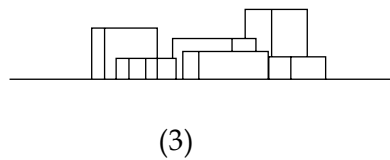
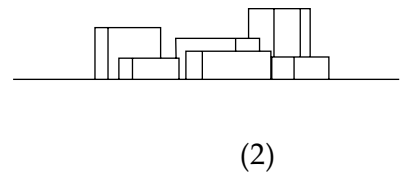
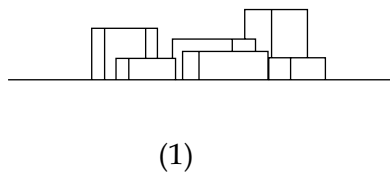
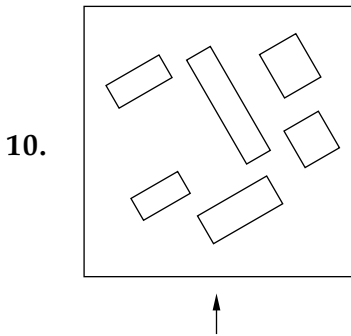
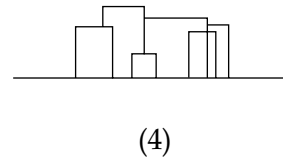
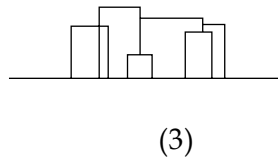
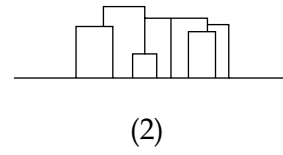
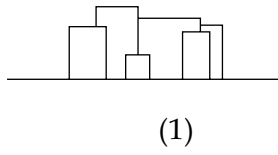
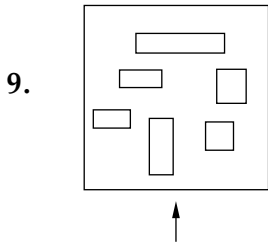
The problem figure shows the top view of objects. Looking in the direction of arrow, identify the correct elevation, from amongst the answer figures.

સૂચના : (પ્ર. 9 અને 10 માટે).

પ્રશ્ન આકૃતિ વસ્તુઓનું ઉપરી દૃશ્ય (top view) બતાવે છે. તીરની દિશામાં જતા જવાબ આકૃતિઓમાંથી આનું સાચું એલિવેશન (elevation) ઓળખો.

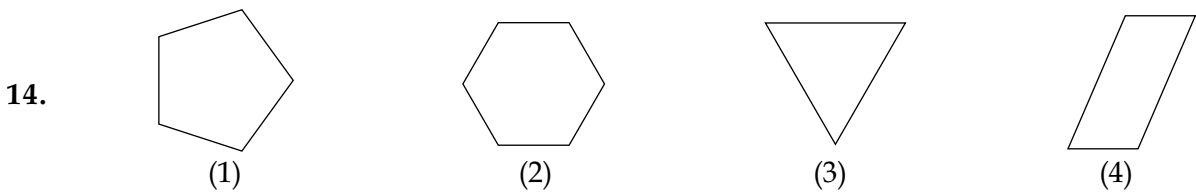
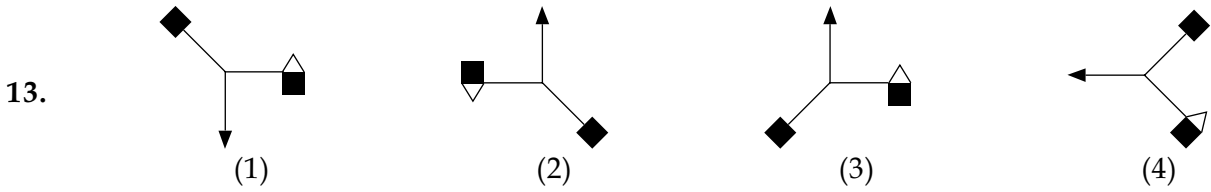
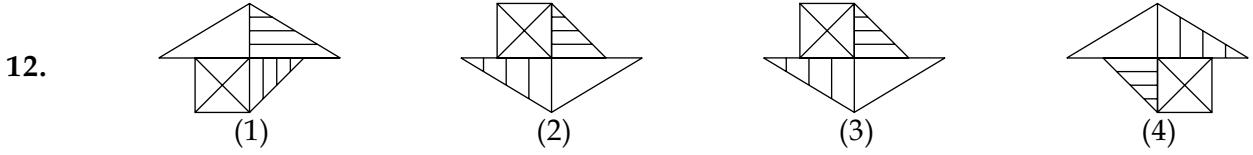
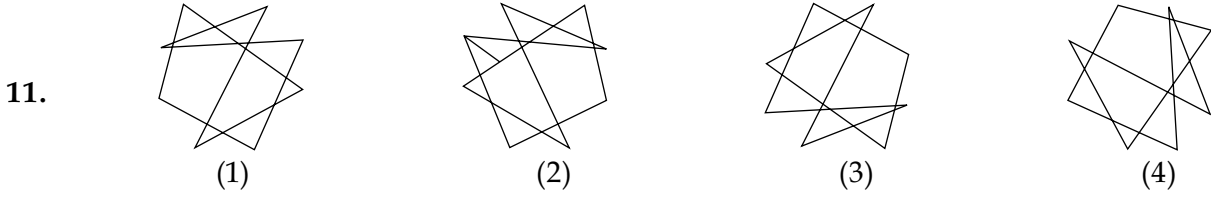
Problem Figure / પ્રશ્ન આકૃતિ

Answer Figures / ઉત્તર આકૃતિઓ



Directions : (For Q. 11 to 14).
 સૂચના : (પ્ર. 11 થી 14 માટે).

Find the odd figure out in the problem figures given below :
 નીચે આપેલ પ્રશ્ન આકૃતિઓમાંથી વિષમ આકૃતિ (odd figure) શોધો.



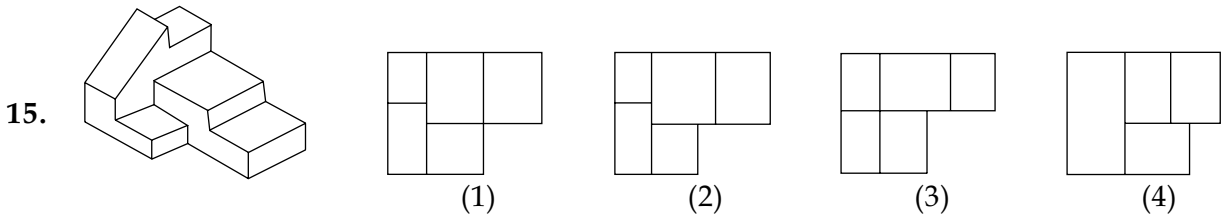
Directions : (For Q. 15 to 17).
 સૂચના : (પ્ર. 15 થી 17 માટે).

The 3 - D problem figure shows the view of an object. Identify, its correct top view, from amongst the answer figures.

3 - D પ્રશ્ન આકૃતિ કોઈ એક વસ્તુનું દૃશ્ય બતાવે છે. જવાબ આકૃતિઓમાંથી તેનું સાચું ઉપરી દૃશ્ય (top view) ઓળખો.

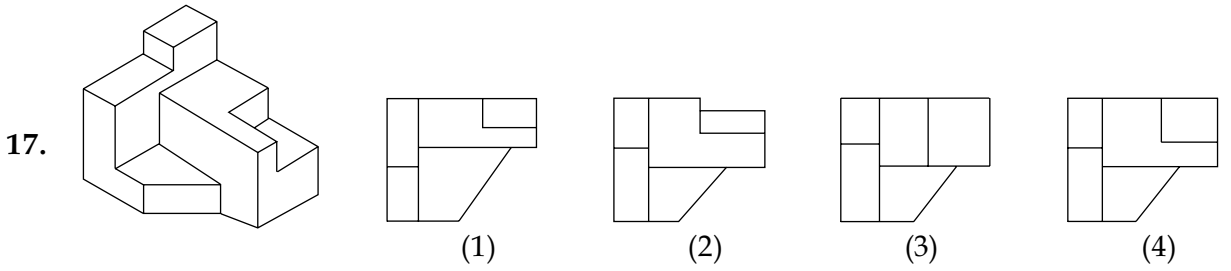
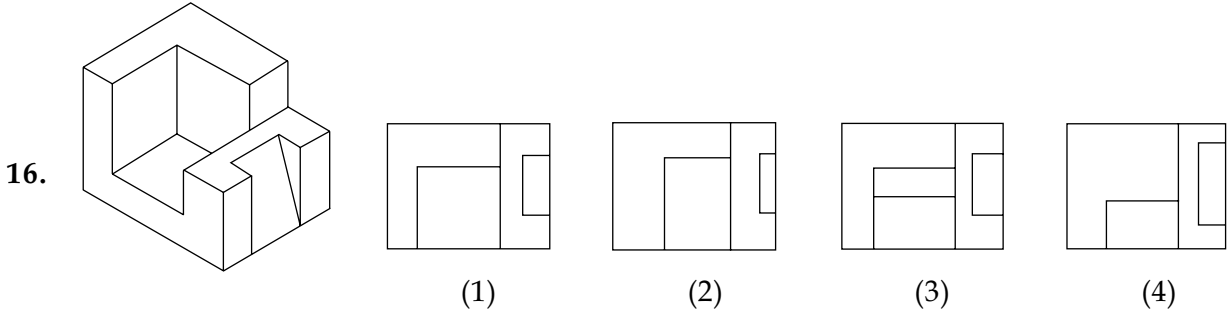
Problem Figure / પ્રશ્ન આકૃતિ

Answer Figures / ઉત્તર આકૃતિઓ



Problem Figure / પ્રશ્ન આકૃતિ

Answer Figures / ઉત્તર આકૃતિઓ

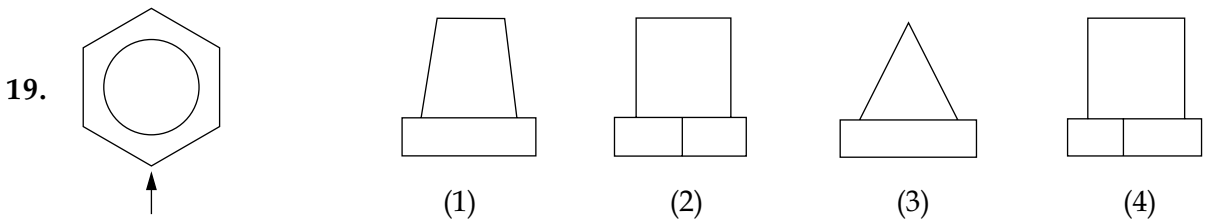
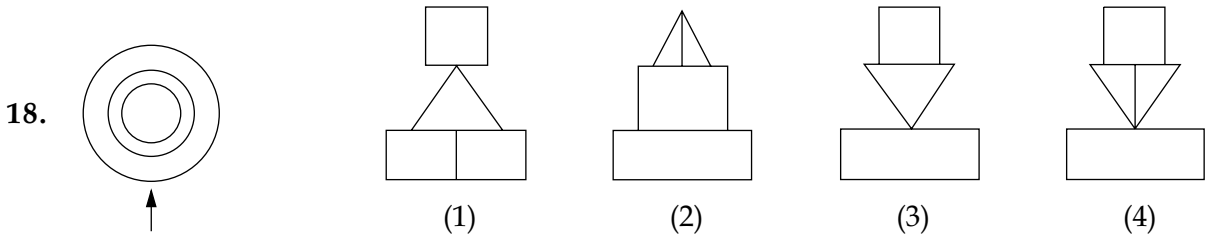


Directions : (For Q. 18 and 19). The problem figure shows the top view of an object. Identify the correct elevation, from amongst the answer figures, looking in the direction of arrow.

સૂચના : (પ્ર. 18 અને 19 માટે). પ્રશ્ન આકૃતિ કોઈ એક વસ્તુનું ઉપરી દર્શ્ય (top view) બતાવે છે. તીરની દિશામાં જોતા જવાબ આકૃતિઓમાંથી આનું સાચું એલિવેશન (elevation) ઓળખો.

Problem Figure /
પ્રશ્ન આકૃતિ

Answer Figures / ઉત્તર આકૃતિઓ

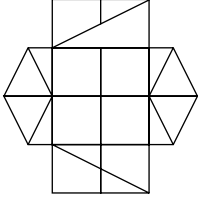


Directions : (For Q. 20 and 21). How many minimum number of straight lines are required to draw the problem figure ?

સૂચના : (પ્ર. 20 અને 21 માટે). પ્રશ્ન આકૃતિ દોરવા માટે ઓછામાં ઓછી કેટલી સીધી રેખાઓની જરૂર છે ?

Problem Figure / પ્રશ્ન આકૃતિ

20.



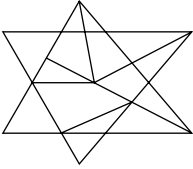
(1) 20

(2) 21

(3) 18

(4) 19

21.



(1) 9

(2) 12

(3) 11

(4) 10

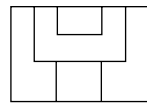
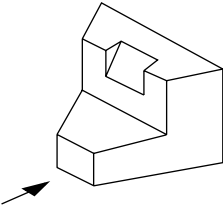
Directions : (For Q. 22 to 25). The 3 - D problem figure shows a view of an object. Identify the correct front view, from amongst the answer figures, looking in the direction of arrow.

સૂચના : (પ્ર. 22 થી 25 માટે). 3 - D પ્રશ્ન આકૃતિ કોઈ એક વસ્તુનું દર્શક બતાવે છે. તીરની દિશામાં જતા આનું સાચું સન્મુખ દર્શક (front view) જવાબ આકૃતિઓમાંથી શોધો.

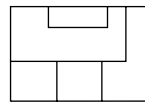
Problem Figure / પ્રશ્ન આકૃતિ

Answer Figures / ઉત્તર આકૃતિઓ

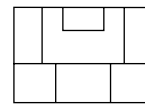
22.



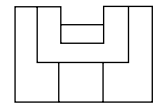
(1)



(2)

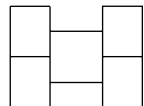
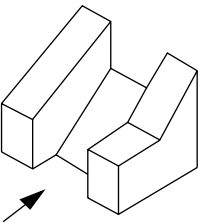


(3)

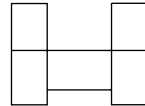


(4)

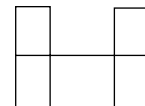
23.



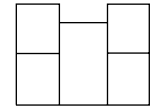
(1)



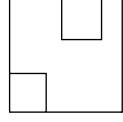
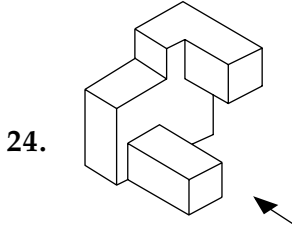
(2)



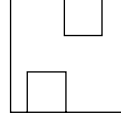
(3)



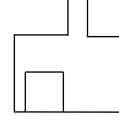
(4)



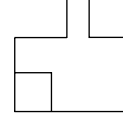
(1)



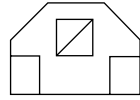
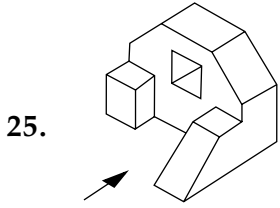
(2)



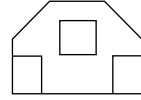
(3)



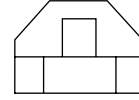
(4)



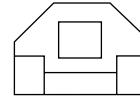
(1)



(2)



(3)

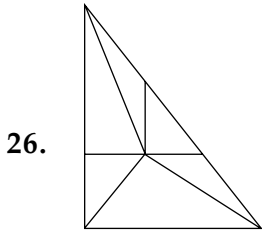


(4)

Directions : (For Q. 26 and 27). How many total number of triangles are there in the problem figure given below ?

સૂચના : (પ્ર. 26 અને 27 માટે). નીચે આપેલ પ્રશ્ન આકૃતિમાં ત્રિકોણોની કુલ સંખ્યા કેટલી છે ?

Problem Figure / પ્રશ્ન આકૃતિ

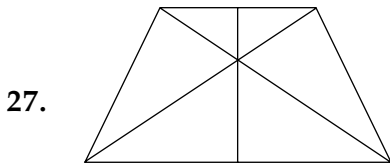


(1) 10

(2) 9

(3) 11

(4) 12



(1) 11

(2) 14

(3) 12

(4) 13

Directions : (For Q. 28 to 30).

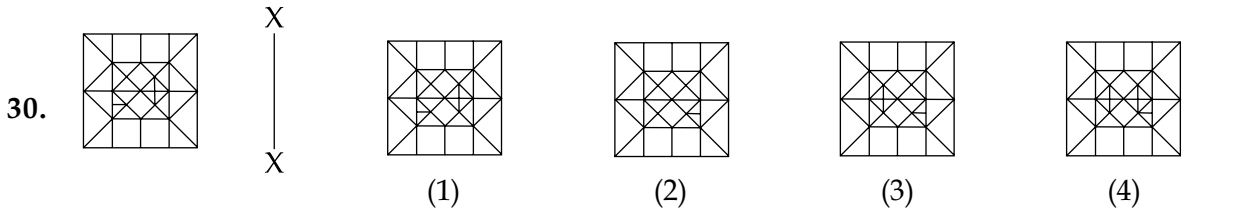
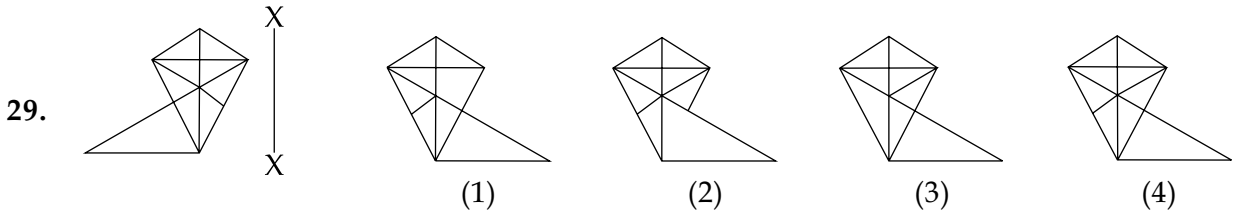
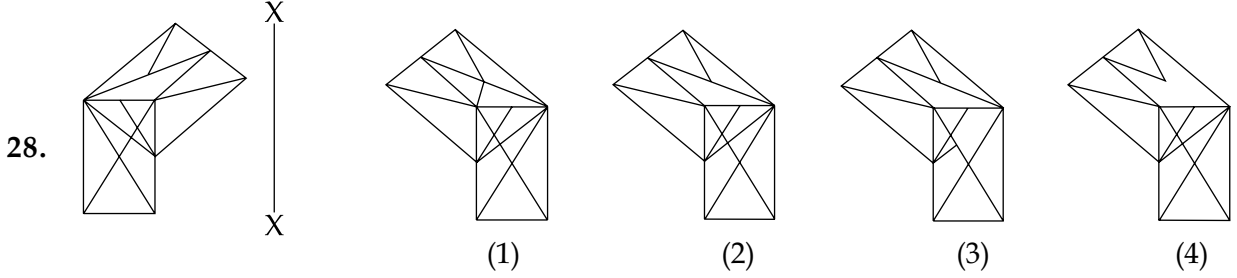
Which one of the answer figures is the correct mirror image of the problem figure with respect to X - X ?

સૂચના : (પ્ર. 28 થી 30 માટે).

જવાબ આકૃતિઓમાંથી કઈ આકૃતિ, આપેલ પ્રશ્ન આકૃતિનું X - X ની સાપેક્ષ સાચું દર્પણ પ્રતિબિંબ (mirror image) છે ?

Problem Figure / પ્રશ્ન આકૃતિ

Answer Figures / ઉત્તર આકૃતિઓ



Directions : (For Q. 31 and 32).

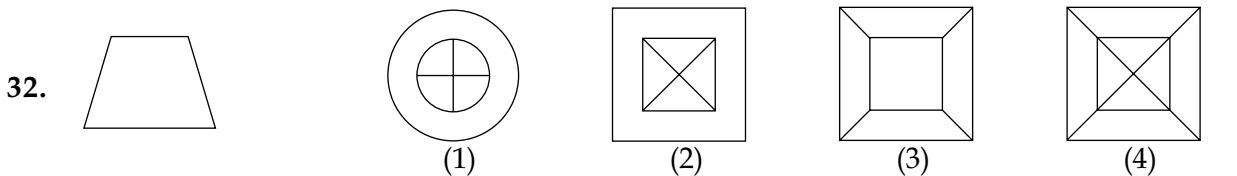
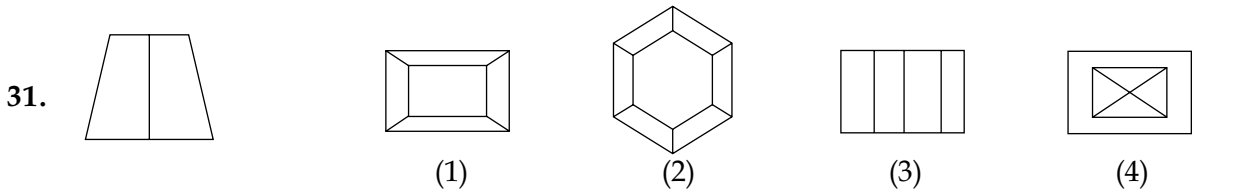
The problem figure shows the elevation of an object. Identify the correct top view from amongst the answer figures.

સૂચના : (પ્ર. 31 અને 32 માટે).

પ્રશ્ન આકૃતિ કોઈ એક વસ્તુનું એલિવેશન (elevation) બતાવે છે. જવાબ આકૃતિઓમાંથી આનું સાચું ઉપરી દર્શ્ય (top view) ઓળખો.

Problem Figure / પ્રશ્ન આકૃતિ

Answer Figures / ઉત્તર આકૃતિઓ

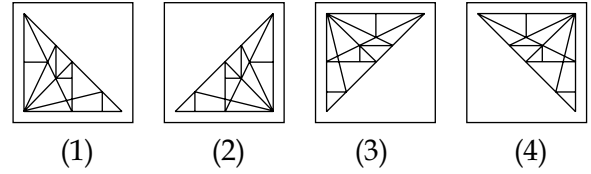
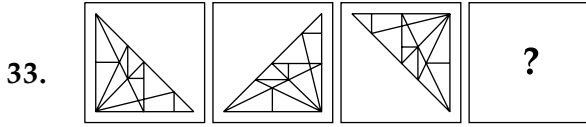


Directions : (For Q. 33). Which one of the answer figures will complete the sequence of the three problem figures ?

સૂચના : (પ્ર. 33 માટે). જવાબ આકૃતિઓમાંથી કઈ આકૃતિ આપેલ ત્રણ પ્રશ્ન આકૃતિઓની શ્રેણી પૂર્ણ કરશે ?

Problem Figures / પ્રશ્ન આકૃતિઓ

Answer Figures / ઉત્તર આકૃતિઓ

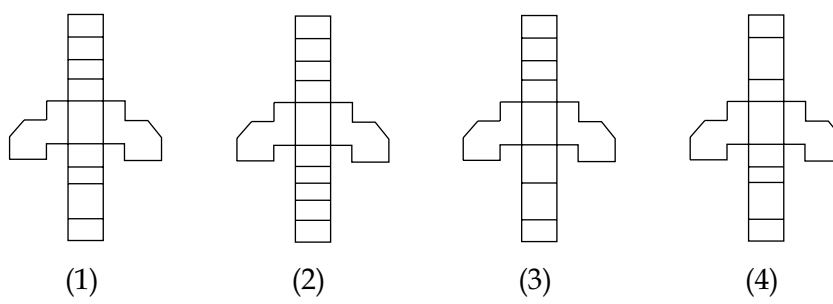
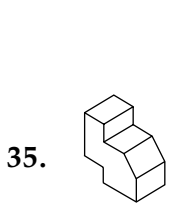
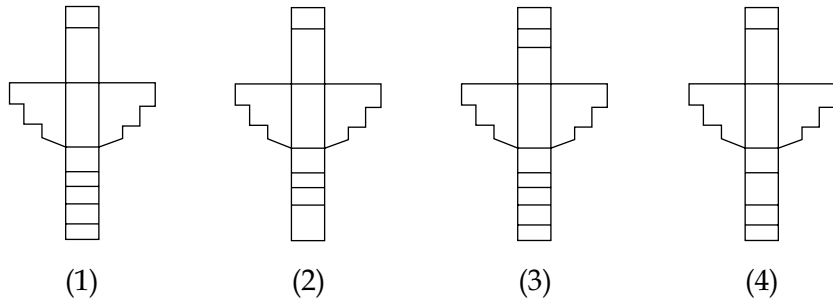
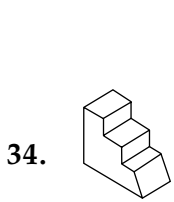


Directions : (For Q. 34 and 35). Which one of the answer figures, shows the correct view of the 3 - D problem figure, after the problem figure is opened up ?

સૂચના : (પ્ર. 34 અને 35 માટે). 3 - D પ્રશ્ન આકૃતિ ખોલી નાખતાં, જવાબ આકૃતિઓમાંથી કઈ આકૃતિ તેનું સાચું દર્શ્ય આપે છે ?

Problem Figure / પ્રશ્ન આકૃતિ

Answer Figures / ઉત્તર આકૃતિઓ



36. What is texture ?
- (1) Lines drawn in one colour
 - (2) The way a surface looks and feels
 - (3) A solid colour
 - (4) A type of shape
37. What secondary colour is obtained by mixing blue and red colours ?
- (1) Orange
 - (2) Brown
 - (3) Pink
 - (4) Purple
38. Which one of the following material cannot be used in its original form for construction of walls ?
- (1) Laterite
 - (2) Granite
 - (3) Fly ash
 - (4) Basalt
39. Which one of the following is an odd match ?
- (1) Shrinking Polar Caps - Earthquake
 - (2) Tsunami - Oceanic Earthquake
 - (3) Deforestation - Climate change
 - (4) Ozone layer - UV rays
40. Why do large industrial buildings have high located glazing on the North side ?
- (1) To get uniform shadow - less light through the day.
 - (2) Because the sun stays on the North side throughout the day.
 - (3) To get bright sunlight throughout the day.
 - (4) To stop the workers from looking outside.
36. ટેક્સચર (texture) શું છે ?
- (1) એક રંગથી દોરેલ રેખાઓ
 - (2) જે રીતે સપાટી દેખાય છે અને અનુભવાય છે તે
 - (3) પાકો રંગ (solid colour)
 - (4) આકારનો એક પ્રકાર
37. વાદળી અને લાલ રંગની મેળવણીથી કયો ગૌણ (secondary) રંગ મળે છે ?
- (1) નારંગી
 - (2) તપખીરિયો (Brown)
 - (3) ગુલાબી
 - (4) બંબુડી
38. નીચેનામાંથી કયો પદાર્થ તેનાં મૂળ સ્વરૂપમાં દિવાલ બનાવવામાં ન વાપરી શકાય ?
- (1) લેટરાઈટ (Laterite)
 - (2) ગ્રેનાઈટ (Granite)
 - (3) ફ્લાય એશ (Fly ash)
 - (4) બેસોલ્ટ (Basalt)
39. નીચેનામાંની કઈ જોડી વિષમ છે ?
- (1) ધ્રુવીય ટોપીનું સંકોચન (Shrinking Polar Caps) - ભૂકંપ
 - (2) સુનામી - મહાસાગરીય ભૂકંપ (Oceanic Earthquake)
 - (3) વનનાશ (Deforestation) - હવામાન બદલાવ (Climate change)
 - (4) ઓઝોન સ્તર - યુવી કિરણો
40. મોટા ઔદ્યોગીક મકાનોની ઉત્તરે ઊંચાઈ ઉપર કાચ શા માટે લગાવવામાં આવે છે ?
- (1) દિવસ દરમ્યાન એકસમાન છાયા વગરનો પ્રકાશ મેળવવા
 - (2) કારણ કે દિવસ દરમ્યાન સૂર્ય ઉત્તર તરફ રહે છે
 - (3) દિવસ દરમ્યાન તેજ સૂર્યપ્રકાશ મેળવવા
 - (4) કામદારોને બહાર જોતાં અટકાવવા

- | | |
|--|---|
| <p>41. Which one of the following is a sound reflecting material ?</p> <p>(1) Glass
(2) Fabric
(3) Thermocol
(4) Jute cloth</p> | <p>41. નીચેનામાંનો કયો, અવાજ પરાવર્તક પદાર્થ છે ?</p> <p>(1) કાચ
(2) કાપડ (Fabric)
(3) થર્મોકોલ
(4) શણનું કાપડ (Jute cloth)</p> |
| <p>42. Which one of the following is not a matching set ?</p> <p>(1) Egypt - Mississippi River
(2) England - 10 Downing Street
(3) San Francisco - Golden Gate Bridge
(4) Washington - White House</p> | <p>42. નીચેનામાંથી કઈ જોડ મેળ વગરની છે ?</p> <p>(1) ઈજિપ્ત - મિસિસિપી નદી
(2) ઈંગ્લેન્ડ - 10 ડાઉનિંગ સ્ટ્રીટ
(3) સાન ફ્રાન્સિસ્કો - ગોલ્ડન ગેટ બ્રીજ
(4) વોશિંગટન - વ્હાઈટ હાઉસ</p> |
| <p>43. Lotus Temple in Delhi was built by :</p> <p>(1) Bahais
(2) Muslims
(3) Jews
(4) Jains</p> | <p>43. દિલ્હીમાંનું કમળ મંદિર બનાવનાર હતાં :</p> <p>(1) બહાઈઓ (Bahais)
(2) મુસલમાનો (Muslims)
(3) યહુદીઓ (Jews)
(4) જૈનો (Jains)</p> |
| <p>44. Who among the following is not an architect ?</p> <p>(1) Hafiz Contractor
(2) Raj Rewal
(3) Zaha Hadid
(4) M.F. Hussain</p> | <p>44. નીચેનામાંથી કોણ સ્થપતિ (વાસ્તુકાર) નથી ?</p> <p>(1) હાફીઝ કોન્ટ્રેક્ટર
(2) રાજ રેવાલ
(3) ઝાહા હાદીદ (Zaha Hadid)
(4) એમ એફ હુસૈન (M.F. Hussain)</p> |
| <p>45. Which one of the following is not a matching set ?</p> <p>(1) Jaipur - Canals
(2) Udaipur - Lakes
(3) Sundarbans - Mangroves
(4) Varanasi - Ghats</p> | <p>45. નીચેનામાંથી કઈ જોડ અંધબેસતી નથી ?</p> <p>(1) જયપુર - કેનાલો (Canals)
(2) ઉદયપુર - સરોવરો (તળાવો) (Lakes)
(3) સુંદરબન - મેંગ્રોવ (Mangroves)
(4) વારાણસી - ઘાટો (Ghats)</p> |

46. Which one of the following is not an earthquake resistant structure ?

- (1) Steel framed building
- (2) Timber framed building
- (3) RCC framed structure
- (4) Load bearing brick walls building

47. Which one of the following is an odd match ?

- (1) Temperate - Shimla
- (2) Hot and Dry - Jaisalmer
- (3) Hot and Humid - Chennai
- (4) Cold and Dry - Ladakh

48. Green architecture is promoted these days because :

- (1) It lasts longer
- (2) Green is a good colour
- (3) It costs less initially
- (4) It is environment friendly

49. Buckingham Palace is located in :

- (1) Geneva
- (2) Singapore
- (3) Paris
- (4) London

50. Fatehpur Sikri was built by :

- (1) Humayun
- (2) Shah Jahan
- (3) Jahangir
- (4) Akbar

46. નીચેનામાંથી કયું ભૂકંપ પ્રતિકારક માળખું નથી ?

- (1) લોખંડની ફ્રેમ વાળું મકાન
- (2) લાકડાની ફ્રેમ વાળું મકાન
- (3) આર સી સી ફ્રેમ વાળું માળખું
- (4) ભાર શોષક (વાહક) ઈટોની દિવાલો વાળું મકાન

47. નીચેનામાંની કઈ જોડ વિષમ (odd) છે ?

- (1) સમશીતોષ્ણ (મધ્યમસરનું) - સિમલા
- (2) ગરમ અને સૂકું - જૈસલમેર
- (3) ગરમ અને ભેજયુક્ત - ચેન્નાઈ
- (4) ઠંડું અને સૂકું - લડાખ

48. હરિયાણા સ્થાપત્યને (Green architecture) આજકાલ બઢાવો આપવામાં આવે છે, કારણ કે

- (1) એ લાંબો સમય ટકે છે
- (2) હરિયાણો (લીલો) એ એક સારો રંગ છે
- (3) એ શરૂઆતમાં ઓછું ખર્ચાળ છે
- (4) એ પર્યાવરણને અનુકૂલ છે

49. બર્કિંગહામ (Buckingham) મહેલ ક્યાં આવેલ છે ?

- (1) જનીવા
- (2) સિંગાપોર
- (3) પેરીસ
- (4) લંડન

50. ફતેહપૂર સીક્રી બનાવનાર હતા :

- (1) હુમાયું
- (2) શાહજહાં
- (3) જહાંગીર
- (4) અકબર

Part II / ભાગ II
Mathematics / ગણિત

51. If $f(x) = \frac{e^x}{1 + e^x}$,

$$I_1 = \int_{f(-a)}^{f(a)} x g\{x(1-x)\} dx \text{ and}$$

$$I_2 = \int_{f(-a)}^{f(a)} g\{x(1-x)\} dx,$$

where g is not an identity function. Then

the value of $\frac{I_2}{I_1}$ is :

- (1) 1
- (2) -1
- (3) $\frac{1}{2}$
- (4) 2

52. If the point $(p, 5)$ lies on the line parallel to the y -axis and passing through the intersection of the lines $2(a^2 + 1)x + by + 4(a^3 + a) = 0$ and $(a^2 + 1)x - 3by + 2(a^3 + a) = 0$, then p is equal to :

- (1) $2a$
- (2) $3a$
- (3) $-2a$
- (4) $-3a$

51. જો $f(x) = \frac{e^x}{1 + e^x}$,

$$I_1 = \int_{f(-a)}^{f(a)} x g\{x(1-x)\} dx \text{ અને}$$

$$I_2 = \int_{f(-a)}^{f(a)} g\{x(1-x)\} dx, \text{ જ્યાં } g \text{ તદેવ વિધેય}$$

નથી, તો $\frac{I_2}{I_1}$ ની કિંમત _____ છે.

- (1) 1
- (2) -1
- (3) $\frac{1}{2}$
- (4) 2

52. જો બિંદુ $(p, 5)$ y -અક્ષને સમાંતર તથા રેખાઓ $2(a^2 + 1)x + by + 4(a^3 + a) = 0$ અને $(a^2 + 1)x - 3by + 2(a^3 + a) = 0$ ના છેદબિંદુ માંથી પસાર થતી રેખા પર આવેલું બિંદુ હોય તો $p =$ _____.

- (1) $2a$
- (2) $3a$
- (3) $-2a$
- (4) $-3a$

53. The area bounded by the curves $y^2=12x$ and $x^2=12y$ is divided by the line $x=3$ in two parts. The area (in square units) of the larger part is :

(1) $137/4$

(2) $245/4$

(3) $147/4$

(4) $45/4$

54. If z is a complex number of unit modulus and argument θ , then the real part of $\frac{z(1-\bar{z})}{\bar{z}(1+z)}$ is :

(1) $-2 \sin^2 \frac{\theta}{2}$

(2) $2 \cos^2 \frac{\theta}{2}$

(3) $1 + \cos \frac{\theta}{2}$

(4) $1 - \sin \frac{\theta}{2}$

55. If the roots of the equation $\frac{1}{x+p} + \frac{1}{x+q} = \frac{1}{r}$ are equal in magnitude and opposite in sign, then the product of roots is :

(1) $-\frac{1}{2}(p^2+q^2)$

(2) $-\frac{1}{2}(p^2-q^2)$

(3) (p^2+q^2)

(4) $\frac{1}{2}(p^2+q^2)$

53. વક્રો $y^2=12x$ અને $x^2=12y$ વડે આવૃત્ત ક્ષેત્રફળ ને રેખા $x=3$ બે ભાગમાં વિભાજિત કરે છે. તો મોટા ભાગનું ક્ષેત્રફળ(ચોરસ એકમમાં) _____ છે.

(1) $137/4$

(2) $245/4$

(3) $147/4$

(4) $45/4$

54. જો એકમ માનવાળી સંકર સંખ્યા z નો કોણાંક θ હોય, તો $\frac{z(1-\bar{z})}{\bar{z}(1+z)}$ નો વાસ્તવિક ભાગ _____ છે.

(1) $-2 \sin^2 \frac{\theta}{2}$

(2) $2 \cos^2 \frac{\theta}{2}$

(3) $1 + \cos \frac{\theta}{2}$

(4) $1 - \sin \frac{\theta}{2}$

55. સમીકરણ $\frac{1}{x+p} + \frac{1}{x+q} = \frac{1}{r}$ ના બીજ સમાન માનાંક અને વિરુદ્ધ ચિહ્ન ધરાવતાં હોય તો આ બીજોનો ગુણાકાર _____ છે.

(1) $-\frac{1}{2}(p^2+q^2)$

(2) $-\frac{1}{2}(p^2-q^2)$

(3) (p^2+q^2)

(4) $\frac{1}{2}(p^2+q^2)$

56. If $S_k = \begin{pmatrix} 1 & k \\ 0 & 1 \end{pmatrix}$, $k \in \mathbb{N}$, where \mathbb{N} is the set of natural numbers, then $(S_2)^n (S_k)^{-1}$, for $n \in \mathbb{N}$, is :

- (1) $S_{2^n - k}$
- (2) $S_{2n - k}$
- (3) $S_{2n + k - 1}$
- (4) $S_{2^{n+k} - 1}$

57. Unit vectors $\vec{a}, \vec{b}, \vec{c}$ are coplanar.

A unit vector \vec{d} is perpendicular to them.

$$\text{If } (\vec{a} \times \vec{b}) \times (\vec{c} \times \vec{d}) = \frac{1}{6}\hat{i} - \frac{1}{3}\hat{j} + \frac{1}{3}\hat{k}$$

and the angle between \vec{a} and \vec{b} is 30° , then \vec{c} is/are :

- (1) $\pm \left(\frac{-\hat{i} + 2\hat{j} - 2\hat{k}}{3} \right)$
- (2) $\left(\frac{-2\hat{i} - 2\hat{j} + \hat{k}}{3} \right)$
- (3) $\pm \left(\frac{-\hat{i} - 2\hat{j} + 2\hat{k}}{3} \right)$
- (4) $\left(\frac{2\hat{i} + \hat{j} - \hat{k}}{3} \right)$

56. જો $S_k = \begin{pmatrix} 1 & k \\ 0 & 1 \end{pmatrix}$, $k \in \mathbb{N}$, જ્યાં \mathbb{N} પ્રાકૃતિક સંખ્યાગણ છે, તો $n \in \mathbb{N}$ માટે $(S_2)^n (S_k)^{-1} = \underline{\hspace{2cm}}$.

- (1) $S_{2^n - k}$
- (2) $S_{2n - k}$
- (3) $S_{2n + k - 1}$
- (4) $S_{2^{n+k} - 1}$

57. એકમ સદિશ $\vec{a}, \vec{b}, \vec{c}$ સમતલીય છે. એક એકમ સદિશ \vec{d} તેઓને લંબ છે.

જો $(\vec{a} \times \vec{b}) \times (\vec{c} \times \vec{d}) = \frac{1}{6}\hat{i} - \frac{1}{3}\hat{j} + \frac{1}{3}\hat{k}$

$$\text{જો } (\vec{a} \times \vec{b}) \times (\vec{c} \times \vec{d}) = \frac{1}{6}\hat{i} - \frac{1}{3}\hat{j} + \frac{1}{3}\hat{k}$$

તથા \vec{a} અને \vec{b} વચ્ચેનો ખૂણો 30° હોય, તો $\vec{c} = \underline{\hspace{2cm}}$

- (1) $\pm \left(\frac{-\hat{i} + 2\hat{j} - 2\hat{k}}{3} \right)$
- (2) $\left(\frac{-2\hat{i} - 2\hat{j} + \hat{k}}{3} \right)$
- (3) $\pm \left(\frac{-\hat{i} - 2\hat{j} + 2\hat{k}}{3} \right)$
- (4) $\left(\frac{2\hat{i} + \hat{j} - \hat{k}}{3} \right)$

58. $\log_{10}2$, $\log_{10}(2^x - 1)$ and $\log_{10}(2^x + 3)$ are three consecutive terms of an A. P. for :

- (1) exactly two real x
- (2) more than two real x .
- (3) no real x
- (4) exactly one real x

59. The locus of the mid points of the chords of the parabola $x^2 = 4py$ having slope m is a :

- (1) line parallel to $y = mx$, $m \neq 0$ at a distance $|2pm|$ from it.
- (2) circle with centre at origin and radius $|2pm|$.
- (3) line parallel to x -axis at a distance $|2pm|$ from it.
- (4) line parallel to y -axis at a distance $|2pm|$ from it.

58. x ની કેટલી વાસ્તવિક કિંમતો માટે $\log_{10}2$, $\log_{10}(2^x - 1)$ અને $\log_{10}(2^x + 3)$ એક સમાંતર શ્રેણી (A. P.) ના ત્રણ ક્રમિક પદો થાય ?

- (1) ફક્ત બે
- (2) બે કરતાં વધારે
- (3) એકપણ નહીં
- (4) ફક્ત એક

59. પરવલય $x^2 = 4py$ ની m ઢાળ વાળી જીવાઓના મધ્યબિંદુઓનો બિંદુપથ _____

- (1) એક રેખા છે કે જે $y = mx$, $m \neq 0$ ને સમાંતર છે અને તેનાથી $|2pm|$ અંતરે છે.
- (2) એક વર્તુળ છે જેનું કેન્દ્ર ઉગમબિંદુ છે અને ત્રિજ્યા $|2pm|$ છે.
- (3) એક રેખા છે કે જે x -અક્ષ ને સમાંતર છે અને તેનાથી $|2pm|$ અંતરે છે.
- (4) એક રેખા છે કે જે y -અક્ષ ને સમાંતર છે અને તેનાથી $|2pm|$ અંતરે છે.

60. A variable plane is at a constant distance p from the origin O and meets the set of rectangular axes OX_i ($i = 1, 2, 3$) at points A_i ($i = 1, 2, 3$), respectively. If planes are drawn through A_1, A_2, A_3 , which are parallel to the coordinate planes, then the locus of their point of intersection is :

(1) $\frac{1}{x_1^3} + \frac{1}{x_2^3} + \frac{1}{x_3^3} = \frac{1}{p^3}$

(2) $x_1^2 + x_2^2 + x_3^2 = p^2$

(3) $\frac{1}{x_1} + \frac{1}{x_2} + \frac{1}{x_3} = \frac{1}{p}$

(4) $\frac{1}{x_1^2} + \frac{1}{x_2^2} + \frac{1}{x_3^2} = \frac{1}{p^2}$

61. Consider the differential equation, $ydx - (x + y^2)dy = 0$. If for $y = 1$, x takes value 1, then value of x when $y = 4$ is :

(1) 36

(2) 64

(3) 9

(4) 16

62. Let $f(x) = |x - x_1| + |x - x_2|$, where x_1 and x_2 are distinct real numbers. Then the number of points at which $f(x)$ is minimum, is :

(1) 3

(2) more than 3

(3) 1

(4) 2

60. એક ચલ સમતલ ઉગમબિંદુ O થી p જેટલા અચળ અંતરે રહે છે અને લંબાક્ષોના ગણ OX_i ($i = 1, 2, 3$) ને અનુક્રમે બિંદુઓ A_i ($i = 1, 2, 3$) માં મળે છે. યામતલોને સમાંતર રહે, તેવા સમતલો જે બિંદુઓ A_1, A_2 અને A_3 માંથી દોરવામાં આવે, તો તેમના છેદબિંદુ નો બિંદુપથ _____ છે.

(1) $\frac{1}{x_1^3} + \frac{1}{x_2^3} + \frac{1}{x_3^3} = \frac{1}{p^3}$

(2) $x_1^2 + x_2^2 + x_3^2 = p^2$

(3) $\frac{1}{x_1} + \frac{1}{x_2} + \frac{1}{x_3} = \frac{1}{p}$

(4) $\frac{1}{x_1^2} + \frac{1}{x_2^2} + \frac{1}{x_3^2} = \frac{1}{p^2}$

61. વિકલ સમીકરણ $ydx - (x + y^2)dy = 0$ વિચારો. જે $y = 1$ માટે, x ની કિંમત 1 થાય છે તો $y = 4$ માટે x ની કિંમત _____ થાય.

(1) 36

(2) 64

(3) 9

(4) 16

62. ધારો કે $f(x) = |x - x_1| + |x - x_2|$, જ્યાં x_1 અને x_2 ભિન્ન વાસ્તવિક સંખ્યાઓ છે. તો $f(x)$ જે બિંદુઓ આગળ ન્યૂનતમ થાય તેવા બિંદુઓની સંખ્યા _____ થાય.

(1) 3

(2) 3 થી વધારે

(3) 1

(4) 2

63. If a circle has two of its diameters along the lines $x + y = 5$ and $x - y = 1$ and has area 9π , then the equation of the circle is :

- (1) $x^2 + y^2 - 6x - 4y + 3 = 0$
- (2) $x^2 + y^2 - 6x - 4y + 4 = 0$
- (3) $x^2 + y^2 - 6x - 4y - 3 = 0$
- (4) $x^2 + y^2 - 6x - 4y - 4 = 0$

64. Suppose that six students, including Madhu and Puja, are having six beds arranged in a row. Further, suppose that Madhu does not want a bed adjacent to Puja. Then the number of ways, the beds can be allotted to students is :

- (1) 600
- (2) 384
- (3) 264
- (4) 480

65. In a ΔABC , if $\begin{vmatrix} 1 & a & b \\ 1 & c & a \\ 1 & b & c \end{vmatrix} = 0$, then

$\sin^2 A + \sin^2 B + \sin^2 C$ is :

- (1) 2
- (2) $\frac{3\sqrt{3}}{2}$
- (3) $\frac{9}{4}$
- (4) $\frac{5}{4}$

63. 9π ક્ષેત્રફળ વાળા એક વર્તુળના બે વ્યાસ રેખાઓ $x + y = 5$ અને $x - y = 1$ પર હોય તો આ વર્તુળનું સમીકરણ _____ છે.

- (1) $x^2 + y^2 - 6x - 4y + 3 = 0$
- (2) $x^2 + y^2 - 6x - 4y + 4 = 0$
- (3) $x^2 + y^2 - 6x - 4y - 3 = 0$
- (4) $x^2 + y^2 - 6x - 4y - 4 = 0$

64. ધારો કે 6 વિદ્યાર્થીઓ કે જેમાં મધુ અને પૂજાનો સમાવેશ થાય છે, તેમનાં 6 બેડ (bed) એક જ હારમાં ગોઠવેલ છે. હવે, ધારો કે મધુને પૂજાની જોડેનો બેડ (bed) નથી જોઈતો. તો વિદ્યાર્થીઓને _____ રીતે બેડ (bed) ની ફાળવણી કરી શકાય.

- (1) 600
- (2) 384
- (3) 264
- (4) 480

65. ΔABC માં, જો $\begin{vmatrix} 1 & a & b \\ 1 & c & a \\ 1 & b & c \end{vmatrix} = 0$, તો

$\sin^2 A + \sin^2 B + \sin^2 C =$ _____

- (1) 2
- (2) $\frac{3\sqrt{3}}{2}$
- (3) $\frac{9}{4}$
- (4) $\frac{5}{4}$

66. Let P be a point in the first quadrant lying on the ellipse $9x^2 + 16y^2 = 144$, such that the tangent at P to the ellipse is inclined at an angle 135° to the positive direction of x -axis. Then the coordinates of P are :

(1) $\left(\frac{4}{\sqrt{2}}, \frac{3}{\sqrt{2}}\right)$

(2) $\left(\frac{16}{5}, \frac{9}{5}\right)$

(3) $\left(\frac{\sqrt{143}}{3}, \frac{1}{4}\right)$

(4) $\left(\frac{8}{9}, \frac{\sqrt{77}}{3}\right)$

67. If the lines $\frac{x-4}{1} = \frac{y-2}{1} = \frac{z-\lambda}{3}$ and

$\frac{x}{1} = \frac{y+2}{2} = \frac{z}{4}$ intersect each other, then

λ lies in the interval :

(1) (11, 13)

(2) (9, 11)

(3) (-5, -3)

(4) (13, 15)

68. Sum of the last 30 coefficients of powers of x in the binomial expansion of $(1+x)^{59}$ is :

(1) $2^{59} - 2^{29}$

(2) 2^{58}

(3) 2^{29}

(4) 2^{28}

66. ધારો કે P પ્રથમ ચરણમાં અને ઉપવલય $9x^2 + 16y^2 = 144$ પરનું બિંદુ છે. જો આ ઉપવલય પરના આ બિંદુ P આગળનો સ્પર્શક, x -અક્ષની ધન દિશાને 135° ખૂણે ઢળેલ (inclined) હોય, તો P ના યામ _____ છે.

(1) $\left(\frac{4}{\sqrt{2}}, \frac{3}{\sqrt{2}}\right)$

(2) $\left(\frac{16}{5}, \frac{9}{5}\right)$

(3) $\left(\frac{\sqrt{143}}{3}, \frac{1}{4}\right)$

(4) $\left(\frac{8}{9}, \frac{\sqrt{77}}{3}\right)$

67. જો રેખાઓ $\frac{x-4}{1} = \frac{y-2}{1} = \frac{z-\lambda}{3}$ અને

$\frac{x}{1} = \frac{y+2}{2} = \frac{z}{4}$ એકબીજાને છેદતી હોય તો λ

_____ અંતરાલમાં છે.

(1) (11, 13)

(2) (9, 11)

(3) (-5, -3)

(4) (13, 15)

68. $(1+x)^{59}$ ના દ્વિપદી વિસ્તરણમાં x ની ઘાતોના છેલ્લાં 30 સહગુણકોનો સરવાળો _____ થાય.

(1) $2^{59} - 2^{29}$

(2) 2^{58}

(3) 2^{29}

(4) 2^{28}

69. $f(x) = |x \log_e x|$, $x > 0$, is monotonically decreasing in :

- (1) $(1, e)$
- (2) (e, ∞)
- (3) $(0, \frac{1}{e})$
- (4) $[\frac{1}{e}, 1]$

70. If $\int \frac{1-5 \sin^2 x}{\cos^5 x \sin^2 x} dx = \frac{f(x)}{\cos^5 x} + C$, then

$f(x)$ is :

- (1) $\cot x$
- (2) $-\cot x$
- (3) $-\operatorname{cosec} x$
- (4) $\operatorname{cosec} x$

71. Let p and q be any two propositions.

Statement 1 : $(p \rightarrow q) \leftrightarrow q \vee \sim p$ is a tautology.

Statement 2 : $\sim(\sim p \wedge q) \wedge (p \vee q) \leftrightarrow p$ is a fallacy.

- (1) Statement 1 is true and statement 2 is false.
- (2) Statement 1 is false and statement 2 is true.
- (3) Both statement 1 and statement 2 are true.
- (4) Both statement 1 and statement 2 are false.

69. $f(x) = |x \log_e x|$, $x > 0$; એ _____ અંતરાલમાં એકસૂત્રી ઘટતું છે.

- (1) $(1, e)$
- (2) (e, ∞)
- (3) $(0, \frac{1}{e})$
- (4) $[\frac{1}{e}, 1]$

70. જો $\int \frac{1-5 \sin^2 x}{\cos^5 x \sin^2 x} dx = \frac{f(x)}{\cos^5 x} + C$,

તો $f(x) =$ _____

- (1) $\cot x$
- (2) $-\cot x$
- (3) $-\operatorname{cosec} x$
- (4) $\operatorname{cosec} x$

71. ધારો કે p અને q કોઈ બે સાધ્યો (propositions) છે.

વિધાન 1 : $(p \rightarrow q) \leftrightarrow q \vee \sim p$ નિત્યસત્ય (tautology) છે.

વિધાન 2 : $\sim(\sim p \wedge q) \wedge (p \vee q) \leftrightarrow p$ તર્કદોષી (fallacy) છે.

- (1) વિધાન 1 સાચું છે અને વિધાન 2 ખોટું છે.
- (2) વિધાન 1 ખોટું છે અને વિધાન 2 સાચું છે.
- (3) વિધાન 1 અને વિધાન 2 બંને સાચાં છે.
- (4) વિધાન 1 અને વિધાન 2 બંને ખોટાં છે.

72. Let $\frac{3\pi}{4} < \theta < \pi$ and

$$\sqrt{2 \cot \theta + \frac{1}{\sin^2 \theta}} = K - \cot \theta,$$

then K is equal to :

- (1) $\frac{1}{2}$
- (2) 1
- (3) -1
- (4) 0

73. A vertical pole stands at a point A on the boundary of a circular park of radius a and subtends an angle α at another point B on the boundary. If the chord AB subtends an angle α at the centre of the park, the height of the pole is :

- (1) $2a \sin \frac{\alpha}{2} \cot \alpha$
- (2) $2a \cos \frac{\alpha}{2} \cot \alpha$
- (3) $2a \sin \frac{\alpha}{2} \tan \alpha$
- (4) $2a \cos \frac{\alpha}{2} \tan \alpha$

74. If

$$\frac{48}{2.3} + \frac{47}{3.4} + \frac{46}{4.5} + \dots + \frac{2}{48.49} + \frac{1}{49.50} = \frac{51}{2} + K \left(1 + \frac{1}{2} + \frac{1}{3} + \dots + \frac{1}{50} \right),$$

then K equals :

- (1) 1
- (2) 2
- (3) -1
- (4) $-\frac{1}{2}$

72. ધારો કે $\frac{3\pi}{4} < \theta < \pi$ અને

$$\sqrt{2 \cot \theta + \frac{1}{\sin^2 \theta}} = K - \cot \theta.$$

તો K = _____

- (1) $\frac{1}{2}$
- (2) 1
- (3) -1
- (4) 0

73. a ત્રિજ્યા વાળા એક વૃત્તીય પાર્ક ની પરિસીમા (boundary) ના બિંદુ A પર સ્થિત એક શિરોલંબ સ્તંભ (pole) છે જે પરિસીમાના એક અન્ય બિંદુ B પર α ખૂણો અંતરિત કરે છે. જે જુવા AB વૃત્તીય પાર્ક ના કેન્દ્ર પર α ખૂણો અંતરિત કરે, તો સ્તંભની ઉંચાઈ _____ છે.

- (1) $2a \sin \frac{\alpha}{2} \cot \alpha$
- (2) $2a \cos \frac{\alpha}{2} \cot \alpha$
- (3) $2a \sin \frac{\alpha}{2} \tan \alpha$
- (4) $2a \cos \frac{\alpha}{2} \tan \alpha$

74. જે

$$\frac{48}{2.3} + \frac{47}{3.4} + \frac{46}{4.5} + \dots + \frac{2}{48.49} + \frac{1}{49.50} = \frac{51}{2} + K \left(1 + \frac{1}{2} + \frac{1}{3} + \dots + \frac{1}{50} \right),$$

તો K = _____

- (1) 1
- (2) 2
- (3) -1
- (4) $-\frac{1}{2}$

75. If $f(x) = (x-p)(x-q)(x-r)$, where $p < q < r$, are real numbers, then the application of Rolle's theorem on f leads to :

- (1) $(p+q+r)^2 < 3(qr+rp+pq)$
- (2) $(p+q+r)^2(qr+rp+pq) = 3$
- (3) $(p+q+r)^2 = 3(qr+rp+pq)$
- (4) $(p+q+r)^2 > 3(qr+rp+pq)$

76. Let $f(x) = \begin{cases} \frac{1}{|x|} & \text{if } |x| > 2 \\ a + bx^2 & \text{if } |x| \leq 2 \end{cases}$,

then $f(x)$ is differentiable at $x = -2$ for :

- (1) $a = \frac{1}{4}$ and $b = -\frac{1}{16}$
- (2) $a = \frac{3}{4}$ and $b = \frac{1}{16}$
- (3) $a = \frac{3}{4}$ and $b = -\frac{1}{16}$
- (4) $a = -\frac{1}{4}$ and $b = \frac{1}{16}$

77. Let $f(x) = (x+1)^2 - 1$, $x \geq -1$, then the set $\{x : f(x) = f^{-1}(x)\}$:

- (1) contains exactly two elements
- (2) contains more than two elements.
- (3) is an empty set
- (4) contains exactly one element

75. જો $f(x) = (x-p)(x-q)(x-r)$, જ્યાં $p < q < r$, વાસ્તવિક સંખ્યાઓ છે. તો f ઉપર રોલ પ્રમેયનો ઉપયોગ _____ આપે.

- (1) $(p+q+r)^2 < 3(qr+rp+pq)$
- (2) $(p+q+r)^2(qr+rp+pq) = 3$
- (3) $(p+q+r)^2 = 3(qr+rp+pq)$
- (4) $(p+q+r)^2 > 3(qr+rp+pq)$

76. ધારો કે $f(x) = \begin{cases} \frac{1}{|x|} & \text{જો } |x| > 2 \\ a + bx^2 & \text{જો } |x| \leq 2 \end{cases}$.

જો $f(x)$ એ $x = -2$ આગળ વિકલનીય હોય, તો _____.

- (1) $a = \frac{1}{4}$ અને $b = -\frac{1}{16}$
- (2) $a = \frac{3}{4}$ અને $b = \frac{1}{16}$
- (3) $a = \frac{3}{4}$ અને $b = -\frac{1}{16}$
- (4) $a = -\frac{1}{4}$ અને $b = \frac{1}{16}$

77. ધારો કે $f(x) = (x+1)^2 - 1$, $x \geq -1$ તો ગણ $\{x : f(x) = f^{-1}(x)\}$:

- (1) ફક્ત બે ઘટકો ધરાવે છે
- (2) બે કરતાં વધારે ઘટકો ધરાવે છે
- (3) ખાલી ગણ છે
- (4) ફક્ત એક ઘટક ધરાવે છે

78. If the mean and the standard deviation of 10 observations x_1, x_2, \dots, x_{10} are 2 and 3 respectively, then the mean of $(x_1 + 1)^2, (x_2 + 1)^2, \dots, (x_{10} + 1)^2$ is equal to :

- (1) 16.0
- (2) 18.0
- (3) 13.5
- (4) 14.4

79. Let N be the set of natural numbers and for $a \in N$, aN denotes the set $\{ax : x \in N\}$.

If $bN \cap cN = dN$, where b, c, d are natural numbers greater than 1 and the greatest common divisor of b and c is 1, then d equals :

- (1) bc
- (2) $b + c$
- (3) $\max \{ b, c \}$
- (4) $\min \{ b, c \}$

80. A biased coin with probability $p, 0 < p < 1$, of heads is tossed until a head appears for the first time. If the probability that the number of tosses required is even is $\frac{2}{5}$, then p is equal to :

- (1) $\frac{1}{4}$
- (2) $\frac{2}{3}$
- (3) $\frac{1}{2}$
- (4) $\frac{1}{3}$

- o o o -

78. જો 10 અવલોકનો x_1, x_2, \dots, x_{10} નો મધ્યક અને પ્રમાણિત વિચલન અનુક્રમે 2 અને 3 હોય, તો $(x_1 + 1)^2, (x_2 + 1)^2, \dots, (x_{10} + 1)^2$ નો મધ્યક = _____.

- (1) 16.0
- (2) 18.0
- (3) 13.5
- (4) 14.4

79. ધારો કે N પ્રાકૃતિક સંખ્યા ગણ છે અને $a \in N$ માટે, aN એ ગણ $\{ax : x \in N\}$

દર્શાવે છે. જો $bN \cap cN = dN$, જ્યાં b, c, d એ 1 કરતાં મોટી પ્રાકૃતિક સંખ્યાઓ છે તથા b અને c નો ગુ.સા.અ (gcd) 1 છે, તો $d =$ _____.

- (1) bc
- (2) $b + c$
- (3) $\max \{ b, c \}$
- (4) $\min \{ b, c \}$

80. એક અભિનત સિક્કો જેમાં છાપ (H) આવવાની સંભાવના $p, 0 < p < 1$ છે, ત્યાં સુધી ઉછાળવામાં આવે છે કે જ્યાં સુધી પહેલી વાર છાપ (H) ન આવે. જો સિક્કો ઉછાળવાના પ્રયત્નો ની સંખ્યા યુગ્મ આવે તેની સંભાવના $\frac{2}{5}$ હોય, તો $p =$ _____.

- (1) $\frac{1}{4}$
- (2) $\frac{2}{3}$
- (3) $\frac{1}{2}$
- (4) $\frac{1}{3}$

- o o o -

SPACE FOR ROUGH WORK / રફ કાર્યનું સ્થાન

SPACE FOR ROUGH WORK / રફ કાર્યનું સ્થાન

SPACE FOR ROUGH WORK / રફ કાર્યનું સ્થાન

Read the following instructions carefully :	નિમ્ન નિર્દેશોને ધ્યાનપૂર્વક વાંચી લેવા :
<ol style="list-style-type: none"> 1. Part I (Aptitude Test) has 50 objective type questions consisting of FOUR (4) marks for each correct response. Part II has 30 objective type questions of Mathematics consisting of FOUR (4) marks each for each correct response. Part III consists of 2 questions carrying 70 marks which are to be attempted on a separate Drawing Sheet which is also placed inside this Test Booklet. Marks allotted to each question are written against each question. For each <i>incorrect response</i> in Part I and Part II, <i>one-fourth</i> ($\frac{1}{4}$) of the total marks allotted to the question would be deducted from the total score. <i>No deduction</i> from the total score, however, will be made if <i>no response</i> is indicated for an item in the Answer Sheet. 2. Handle the Test Booklet, Answer Sheet and Drawing Sheet with care, as under no circumstances (except for discrepancy in Test Booklet Code and Answer Sheet Code), another set will be provided. 3. The candidates are not allowed to do any rough work or writing work on the Answer Sheet. All calculations/ writing work are to be done on the space provided for this purpose in the Test Booklet itself, marked 'Space for Rough Work'. This space is given at the bottom of each page and in 3 pages (pages 25 - 27) at the end of the booklet. 4. Each candidate must show on demand his/her Admit Card to the Invigilator. 5. No candidate, without special permission of the Superintendent or Invigilator, should leave his/her seat. 6. On completion of the test, the candidates should not leave the examination hall without handing over their Answer Sheet of Aptitude Test and Mathematics-Part I & II and Drawing Sheet of Aptitude Test-Part III to the Invigilator on duty and sign the Attendance Sheet at the time of handing over the same. Cases where a candidate has not signed the Attendance Sheet the second time will be deemed not have handed over these documents and dealt with as an unfair means case. The candidates are also required to put their left hand THUMB impression in the space provided in the Attendance Sheet. However, the candidates are allowed to take away with them the Test Booklet of Aptitude Test and Mathematics - Part I & II. 7. Use of Electronic/Manual Calculator or drawing instruments (such as scale, compass etc.) is not allowed. 8. The candidates are governed by all Rules and Regulations of the JAB/Board with regard to their conduct in the Examination Hall. All cases of unfair means will be dealt with as per Rules and Regulations of the JAB/Board. 9. No part of the Test Booklet, Answer Sheet and Drawing Sheet shall be detached/folded or defaced under any circumstances. 10. The candidates will write the Test Booklet Number as given in the Test Booklet, Answer Sheet and Drawing Sheet in the Attendance Sheet also. 11. Candidates are not allowed to carry any textual material, printed or written, bits of papers, pager, mobile phone, electronic device or any other material except the Admit Card inside the examination hall/room. 	<ol style="list-style-type: none"> 1. ભાગ I માં (અભિરૂચિ પરીક્ષાનાં) 50 વિકલ્પલક્ષી પ્રશ્નો છે જેમાં દરેક પ્રશ્નનાં સાચા જવાબ માટે ચાર (4) અંક નિર્ધારિત કરવામાં આવ્યા છે. ભાગ II માં ગણિતનાં 30 વિકલ્પલક્ષી પ્રશ્નો છે જેમાં દરેક પ્રશ્નનાં સાચા જવાબ માટે ચાર (4) અંક નિર્ધારિત કરવામાં આવ્યા છે. પુસ્તિકાનાં ભાગ III માં 2 પ્રશ્નો છે જેનાં 70 અંક નિર્ધારિત કરવામાં આવ્યા છે જેના માટે અતિરિક્ત ડ્રાઈંગ શીટ પ્રશ્ન પુસ્તિકાની અંદર રાખવામાં આવી છે. દરેક પ્રશ્ન સામેની સંખ્યા તેના અંક દર્શાવે છે. ભાગ I અને ભાગ II નાં પ્રત્યેક ખોટા જવાબ માટે તે પ્રશ્નનાં નિર્ધારિત કુલ અંકનાં એક ચતુર્થાંશ ($\frac{1}{4}$) અંક તેનાં કુલ અંકોમાંથી કાપવામાં આવશે. જવાબ પત્રમાં જો કોઈ પ્રશ્નનો જવાબ ન આપવામાં આવે તેવી સ્થિતિમાં કુલ અંકમાંથી કોઈ અંક કાપવામાં નહીં આવે. 2. પ્રશ્ન પુસ્તિકા, જવાબ પત્ર અને ડ્રાઈંગ શીટને કાળજીપૂર્વક રાખવી કારણ કે કોઈપણ પરિસ્થિતિમાં અતિરિક્ત સેટ આપવામાં નહીં આવે (સિવાય કે પ્રશ્ન પુસ્તિકા કોડ અને જવાબ પત્રના કોડ ભિન્ન હોય). 3. જવાબ પત્ર પર પરીક્ષાર્થીએ કોઈ રફ કાર્ય કે લખાણ લખવું નહીં. બધી ગણતરી / લખાણ કાર્ય હેતુ પ્રશ્ન પુસ્તિકામાં નિર્ધારિત 'રફ કાર્યનું સ્થાન' માં જ કરવું. આ સ્થાન દરેક પાનાના નીચેના ભાગમાં છે અને ત્રણ પાના (પાના 25-27) પુસ્તિકાનાં અંતમાં આપવામાં આવ્યા છે. 4. દરેક પરીક્ષાર્થીએ નિરીક્ષકની માંગ પ્રમાણે પ્રવેશ કાર્ડ અવશ્ય બતાડવું. 5. અધિક્ષક યા નિરીક્ષક ની રજા વગર કોઈપણ પરીક્ષાર્થીએ પોતાનું સ્થાન છોડવું નહીં. 6. પરીક્ષા પૂર્ણ થયા પછી પરીક્ષાર્થીએ અભિરૂચિ પરીક્ષા અને ગણિત ભાગ I અને II નો જવાબ પત્ર તથા અભિરૂચિ પરીક્ષા ભાગ III ની ડ્રાઈંગ શીટ, નિરીક્ષકને સોંપ્યા વગર જવું નહીં અને તે જ સમયે ઉપસ્થિતિ પત્રમાં સહી કર્યા પછી જ કક્ષથી બહાર જવું. જો પરીક્ષાર્થી ઉપસ્થિતિ પત્રમાં બીજી વખત સહી ન કરે તો તેને જવાબ પત્ર અને ડ્રાઈંગ શીટ પાછી સોંપી નથી તેમ માની લઈ તેને અનુચિત શ્રેણીમાં ગણવામાં આવશે. પરીક્ષાર્થીએ પોતાના ડાબા અંગૂઠાનો નિશાન ઉપસ્થિતિ પત્રમાં નિયત સ્થાન પર જરૂરથી કરવો. પરીક્ષાર્થી અભિરૂચિ પરીક્ષા અને ગણિત ભાગ I અને II ની પરીક્ષા પુસ્તિકા પોતાની સાથે લઈ જઈ શકે છે. 7. ઈલેક્ટ્રોનિક/હસ્તચલિત કેલક્યુલેટર અથવા ડ્રાઈંગના સાધનો (જેમકે સ્કેલ, કંપાસ ઈ.) નો પ્રયોગ નહીં કરી શકાય. 8. પરીક્ષાર્થીઓના આચરણ બાબત પરીક્ષા કક્ષ/હોલમાં જ.એ.બ./બોર્ડ દ્વારા આચરવામાં આવેલા નિયમો અને ધારાધોરણ લાગૂ પડશે. અનુચિત સાધન પ્રયોગ ના બધા પ્રકરણોમાં જ.એ.બ./બોર્ડના નિયમો અને ધારાધોરણ મુજબ કાર્યવાહી થશે. 9. કોઈપણ સ્થિતિમાં પરીક્ષા પુસ્તિકાના, જવાબ પત્ર અને ડ્રાઈંગ શીટના કોઈપણ ભાગને અલગ કરવો/વાળવો નહીં અને બગાડવો નહીં. 10. પરીક્ષાર્થીએ પરીક્ષા પુસ્તિકા, જવાબ પત્ર અને ડ્રાઈંગ શીટમાં આપેલ પરીક્ષા પુસ્તિકા સંખ્યાને ઉપસ્થિતિ પત્રમાં પણ યોગ્ય પ્રકાર થી લખવું. 11. પરીક્ષા કક્ષ/હોલમાં પ્રવેશ કાર્ડ સિવાય પરીક્ષાર્થીને કોઈપણ પાઠ્ય સામગ્રી, મુદ્રિત અથવા હસ્તલિખિત, કાગળની કાપલીઓ, પેજર, મોબાઈલ ફોન, ઈલેક્ટ્રોનિક સાધન અથવા અન્ય કોઈ સામગ્રી લઈ જવાની અનુમતિ નથી.